


夏期講習テキスト

学習範囲（1年2学期～1年3学期）

1年

さんすう

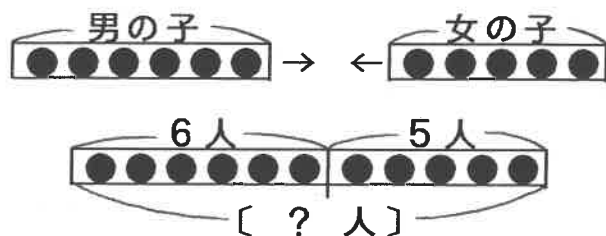
学習レベル 基本－標準－発展－難問



和清学習会

名前

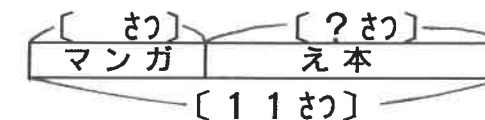
【例1】 男の子が 6人と、女の子が 5人います。こどもはあわせて なん人 いますか。 (合併型)



(しき)

こたえ ()

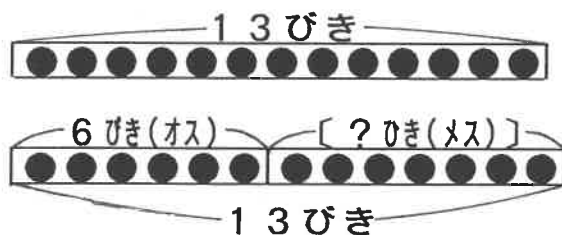
【2】 本が 11さつ あります。そのうち、3さつはマンガで、のこりは え本です。え本は なんさつ ありますか。



(しき)

こたえ ()

【例2】 バッタが 13ひき います。そのうち オスは 6ひき です。メスは なんひき いますか。 (求補型)



(しき)

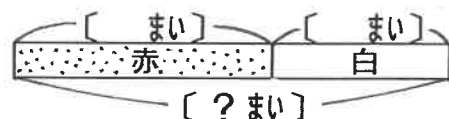
こたえ ()

【3】 赤とくろの きんぎょが あわせて 16ひき います。赤い きんぎょは 8ひき います。くろい きんぎょは なんひき いますか。

(しき)

こたえ ()

【1】 赤い いろがみが 9まいと、白い いろがみが 6まい あります。いろがみは ぜんぶで なんまい ありますか。



(しき)

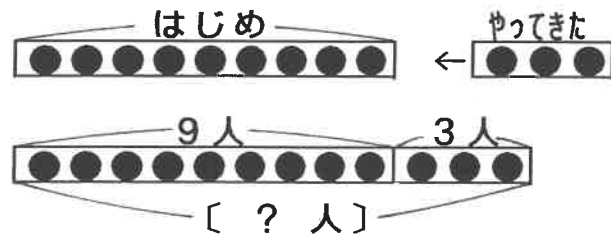
こたえ ()

【4】 あたらしい えんぴつが 8本と、けずった えんぴつが 7本 あります。えんぴつは なん本 ありますか。

(しき)

こたえ ()

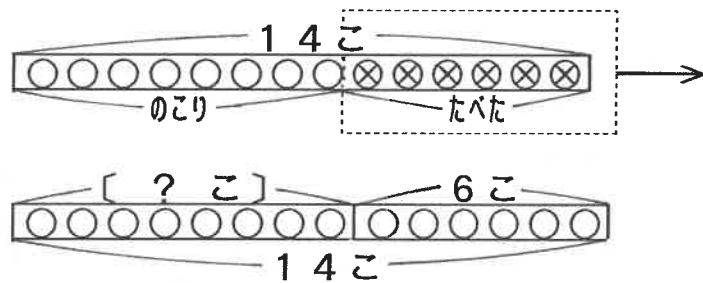
【れい1】 子どもが 9人 いました。そこへ 3人 やって きました。子どもは なん人に なりましたか。(増加型)



(しき)

こたえ ()

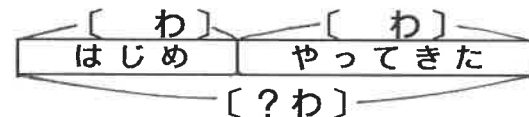
【れい2】 りんごが 14こ ありました。きょう 6こ たべ ました。のこりは なんこに なりましたか。(減少型)



(しき)

こたえ ()

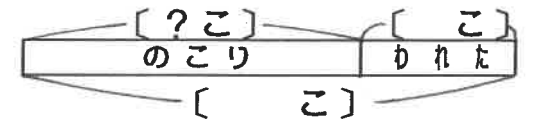
【1】 すずめが でんせんに 5わ とまっていたいました。そこへ 8わ やってきました。すずめは ぜんぶで なんわに なりましたか。



(しき)

こたえ ()

【2】 ふうせんを 12こ ふくらませましたが、4こが われてしまいました。われていない ふうせんは いくつ のこっていますか。



(しき)

こたえ ()

【3】 れい子さんは、7円 もっていました。おねえさんから 5円 もらいました。れい子さんは いま なん円 もっ ていますか。

(しき)

こたえ ()

【4】 たまごを 15こ かってきました。9こ たべると、 のこりは なんこに なりますか。

(しき)

こたえ ()

【1】 がようしが 10まい あります。7まい つかうと、
のこりは なんまいに なりますか。

(しき)

こたえ ()

【2】 赤い おはじきが 6こ、青い おはじきが 8こ
あります。おはじきは ぜんぶで なんこ ありますか。

(しき)

こたえ ()

【3】 わなげを しました。13かい なげて、4かい 入り
ました。入らなかったのは、なんかいですか。

(しき)

こたえ ()

【4】 17ひきの 犬が います。この 中で、オスの 犬は
7ひき います。メスの 犬は なんびき いますか。

(しき)

こたえ ()

【5】 みかんが 4こ ありました。きょう、おばさんから
9こ もらいました。みかんは なんこに なりましたか。

(しき)

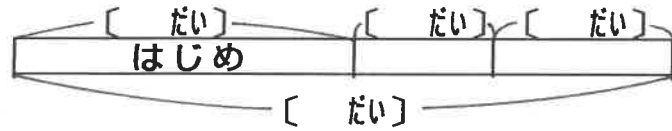
こたえ ()

【6】 カードを あつめています。ぼくは 7まい、おとうとは
6まい あつめました。2人で なんまい あつめましたか。

(しき)

こたえ ()

【例1】 ちゅう車じょうに 車が 8だい とまっています。
 3だい とまりました。また、4だい とまりました。
 車は ぜんぶで なんだいに なりましたか。



(しき)

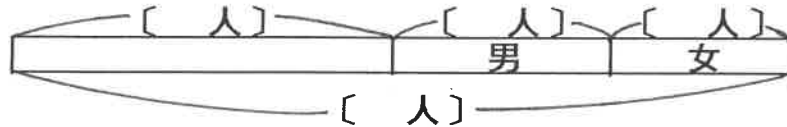
こたえ ()

【1】 いちろうくんは、えんぴつを 8本 もっていました。
 きょう、おじさんと おばさんから 3本ずつ もらい
 ました。えんぴつは なん本に なりましたか。

(しき)

こたえ ()

【例2】 バスに おきゃくが 18人 のっていました。つぎの
 バスで、男が 4人と 女が 5人 おりました。
 バスの おきゃくは、なん人に なりましたか。



(しき)

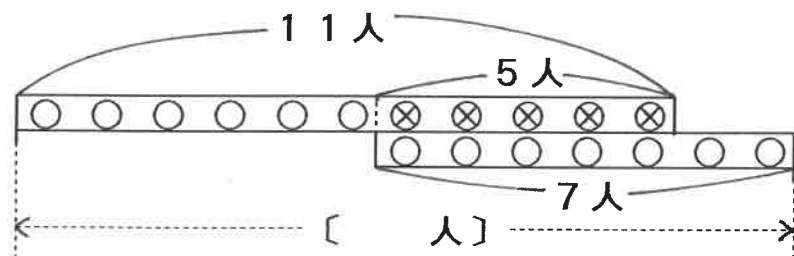
こたえ ()

【2】 みなとに ふねが 13そう とまっていた。
 8そう 出ていって、5そう 入ってきました。みなとの
 ふねは なんそうに なりましたか。

(しき)

こたえ ()

【例3】 こうえんに 子どもが 11人 いました。そのあと、
 5人が かえりましたが、7人が やってきました。
 こうえんに いる 子どもは、なん人に なりましたか。



(しき)

こたえ ()

【3】 おりがみが 19まい あります。そのうち 7まいで
 つるを おり、4まいを いもうとに あげました。
 おりがみは あと なんまい のこっていますか。

(しき)

こたえ ()

【1】 はこに ボールが 9こ 入っていました。ぼくは 6こ 入れて 5こ とり出し、おとうとは 2こ 入れて 4こ とり出しました。はこに 入っている ボールは なんこに なりましたか。
(1つのしきで)

(しき)

こたえ ()

【2】 バスに おきゃくが 8人 のっていました。1つめの バスで 3人 おりて 6人 のり、2つめの バスで 4人 おりて 5人 のり、3つめの バスで 2人 おりて 7人 のりました。バスの おきゃくは、なん人に なりましたか。

(しき)

こたえ ()

【3】 みかんが 14こ ありました。きのう、ぼくが 3こ ともうとが 2こ たべました。きょう、おかあさんが 8こ かってきましたが、ぼくと ともうとが 2こずつ、おとうさんが 5こ たべました。みかんは あと なんこのこっていますか。

(しき)

こたえ ()

【4】 $2\odot 3$ の けいさんは、 $2+3+4$ の ように、2から 1ずつ 大きい かずを 3つ あわせることと、やくそく します。 $3\triangle 2$ の けいさんは、 $3+3$ の ように、3を 2かい あわせることと、やくそく します。

(1) $3\odot 3$ は、いくつに なりますか。

(しき)

こたえ ()

(2) $4\triangle 3$ は、いくつに なりますか。

(しき)

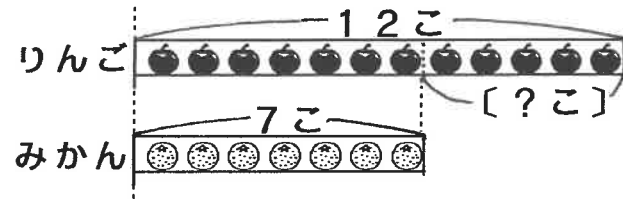
こたえ ()

(3) $1\odot 4\triangle 2$ は、いくつに なりますか。(2つのしきで)

(しき)

こたえ ()

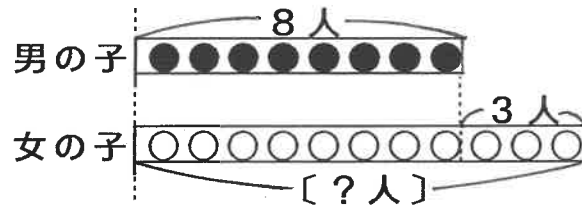
【れい1】 りんごが 12こ、みかんが 7こ あります。ちがいは いくつですか。 (求差型)



(しき)

こたえ ()

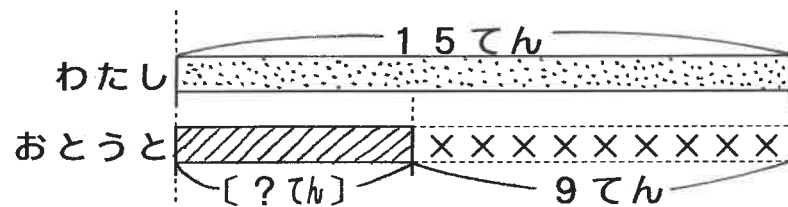
【れい2】 男の子が 8人 います。女の子は 男の子より 3人 おおく います。女の子は なん人 いますか。(比較)



(しき)

こたえ ()

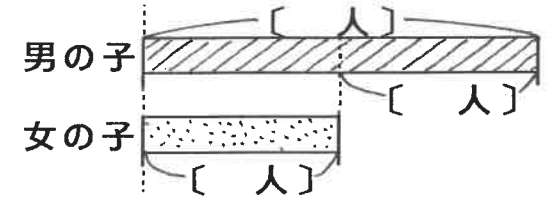
【れい3】 まとあてを しました。わたしは 15てんでした。おとうとは、わたしより 9てん すくなかったそうです。おとうとは なんてんでしたか。(比較)



(しき)

こたえ ()

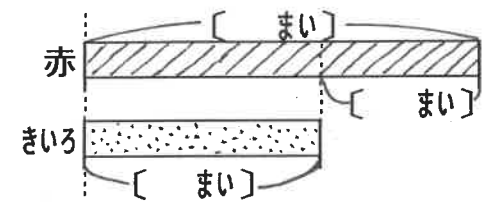
【1】 男の子が 13人、女の子が 6人 います。男の子は 女の子より なん人 おおく いますか。



(しき)

こたえ ()

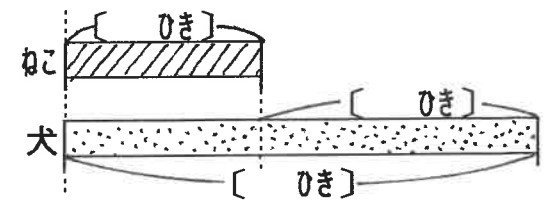
【2】 赤い いろがみが 18まい あります。きいろい いろがみは、赤い いろがみより 8まい すくないです。きいろい いろがみは、なんまい ありますか。



(しき)

こたえ ()

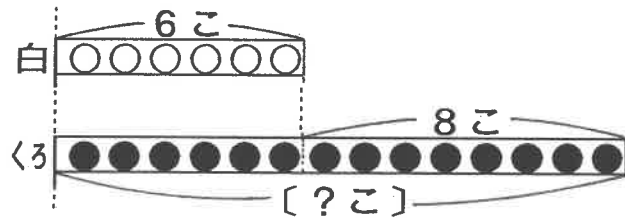
【3】 ねこが 7ひき います。犬は ねこより 9ひき おおく います。犬は なんびき いますか。



(しき)

こたえ ()

【れい1】 白い石は、くろい石より 8こ ずくなくて 6こ あります。くろい石は なんこ ありますか。



<かんがえかた>

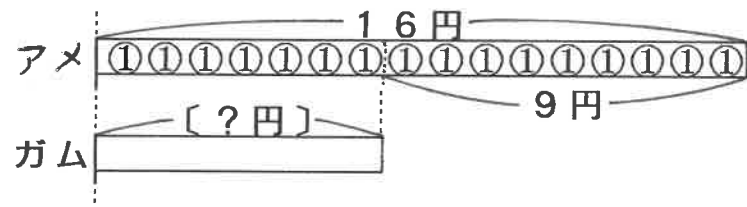
(白い石は、くろい石より 8こ ずくなく)

(_____ 石は、 _____ 石より 8こ おおい)と、おきかえる

(しき)

こたえ ()

【れい2】 アメ1こは ガム1こより 9円 たかくて 16円 です。ガム1こは なん円ですか。



<かんがえかた>

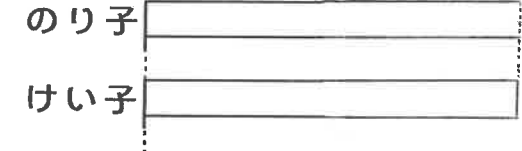
(アメ1こは ガム1こより 9円 たかく)

(_____ 1こは _____ 1こより 9円 やすい)と、おきかえる

(しき)

こたえ ()

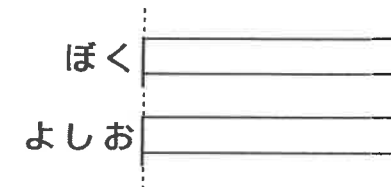
【1】 のり子さんは おはじきを 12こ もっています。また、のり子さんの おはじきの かずは、けい子さんの おはじきの かずより 4こ おおい そうです。けい子さんは、おはじきを なんこ もっていますか。(ずの つづきも かいてみよう!)



(しき)

こたえ ()

【2】 ぼくは よしおくんより 5さい 年下で 7さいです。よしおくんは なんさいですか。(ずの つづきも かいてみよう!)



(しき)

こたえ ()

【1】 子どもが 4人 います。おとなは 子どもより 8人
おおく います。おとなは なん人 いますか。

(しき)

こたえ ()

【2】 子どもが 11人 いますが、いすは 9きやくしか
ありません。いすは なんきやく たりませんか。

(しき)

こたえ ()

【3】 赤い 花が 16こ さきました。白い 花は、赤い
花より 7こ すくなかったそうです。白い 花は なんこ
さきましたか。

(しき)

こたえ ()

【4】 おとうとは、おにいさんより 6さい 年下で、6さい
です。おにいさんは なんさいですか。

(しき)

こたえ ()

【5】 にわとりが、きのう うんだ たまごは 9こで、きょう
よりは 5こ すくなかったそうです。きょう うんだ
たまごは なんこですか。

(しき)

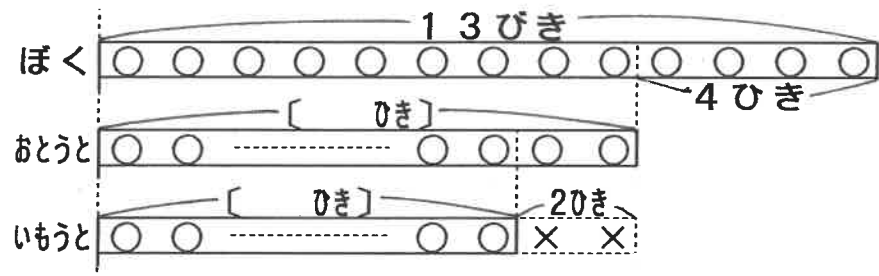
こたえ ()

【6】 コップは スプーンより 8こ おおくて、15こ
あります。スプーンは なんこ ありますか。

(しき)

こたえ ()

【例1】 さかなつりに 行きました。ぼくは おとうとより
 4ひき おおくて 13びき つりました。また、いもうとは
 おとうとよりも 2ひき すくなかったそうです。
 おとうと、いもうとは、それぞれ なんびき つりましたか。



(しき)

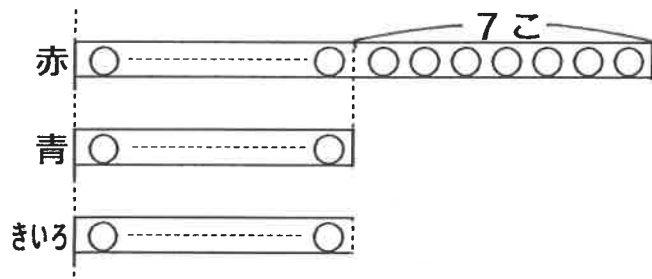
こたえ (おとうと..... ひき , いもうと..... ひき)

【1】 りんごは なしより 5こ おおくて 12こ あります。
 また、みかんは なしより 8こ おおく あります。
 なし、みかんは、それぞれ なんこ ありますか。

(しき)

こたえ (なし..... こ , みかん..... こ)

【例2】 赤・青・きいろの 3しょくのおはじきが あります。
 赤は 青より 7こ おおく、青は きいろより 15こ
 すくないそうです。赤と きいろでは、どちらが なんこ
 おおく ありますか。
 ずの つづきを かいてかんがえましょう。



(しき)

こたえ ()

【2】 わなげを しました。さとしくんは、すすむくんよりも
 9てん おおかったのですが、ひろとくんよりは 3てん
 すくなかったそうです。すすむくんと ひろとくんとでは
 どちらが なんてん おおかったでしょうか。

(しき)

こたえ ()

【れい1】 男の子が 8人と、女の子が 6人 いました。そのあと 男の子は 3人 かって 7人 きました。また、女の子は 2人 かって 9人 きました。いま、男の子と 女の子の どちらが なんん人 おおく いますか。

<かんがえかた>

◎ せいりして、くらべてみましょう!

(~~~~と~~~~に わけてみました。)

(しき)

男の子-----

女の子-----

ちがい-----

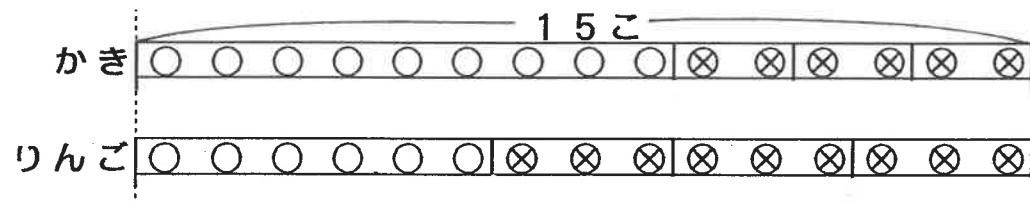
こたえ ()

【1】 りんごが 9こ、みかんが 12こ ありました。きょう、りんごを 4こ みかんを 8こ たべたのですが、りんごを 7こ みかんを 10こ もらいました。りんごと みかんの、どちらが なんこ おおく のこっていますか。

(しき)

こたえ ()

【れい2】 かきと りんごを 15こずつ かってきました。1日にかきは 2こずつ、りんごは 3こずつ たべます。3日かんたべたあと、かきは りんごより なんこ おおく のこっていますか。



(しき)

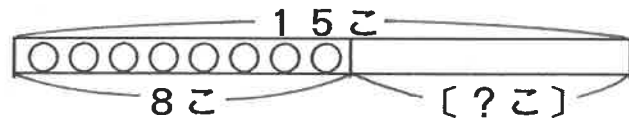
こたえ ()

【2】 はこに、赤と 白の ボールが 3こずつ 入っています。赤は 4こずつ、白は 3こずつ、それぞれ 3かい 入れました。赤の ボールは、白の ボールより なんこ おおく 入っていますか。

(しき)

こたえ ()

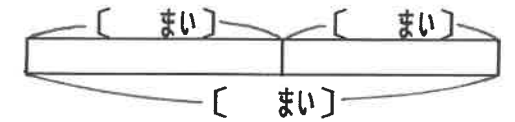
【れい1】 いろがみで つるを 15こ おります。いままでに 8こ おりました。あと いくつ おれば よいでしょうか。



(しき)

こたえ ()

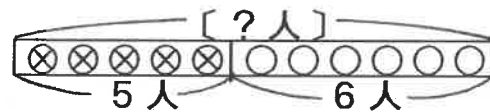
【1】 シールを あつめています。いままでに 9まい あつめました。あと なんまいで、17まいに なりますか。



(しき)

こたえ ()

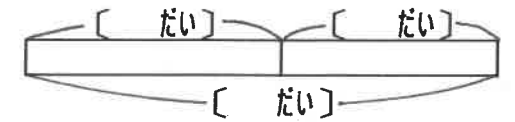
【れい2】 子どもが あそんでいました。5人 かえたので、あと 6にんに なりました。はじめに あそんでいた 子どもは、なん人でしたか。



(しき)

こたえ ()

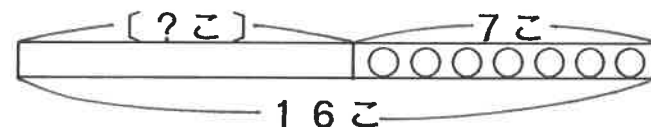
【2】 ちゅうしゃじょうに 車が とまっています。あと 6だい くれれば、13だいに なります。いま なんだいに とまっていますか。



(しき)

こたえ ()

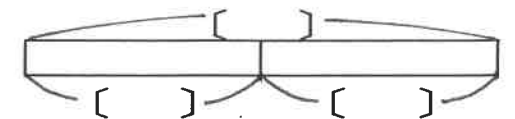
【れい3】 みかんが なんこか ありました。7こ もらったので、ぜんぶで 16こに なりました。はじめに なんこ ありましたか。



(しき)

こたえ ()

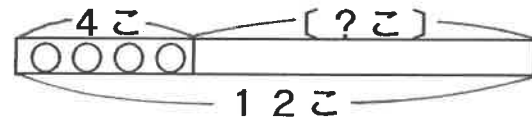
【3】 ある かずから、7を ひくと、こたえが 7に なりました。ある かずは、いくつですか。



(しき)

こたえ ()

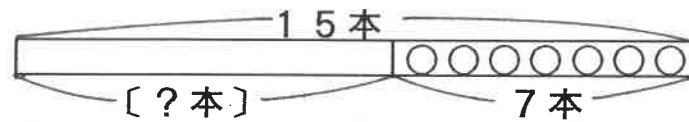
【れい1】 あめが 4こ ありました。おじさんから なんこか もらったので、ぜんぶで 12こに なりました。おじさんに なんこ もらいましたか。



(しき)

こたえ ()

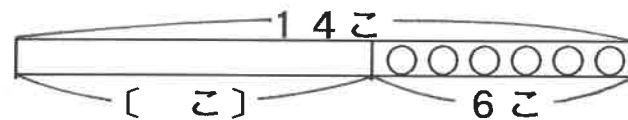
【れい2】 えんぴつが 15本 ありました。おとうとに なん本か あげたので、のこりが 7本に なりました。おとうとに なん本 あげましたか。



(しき)

こたえ ()

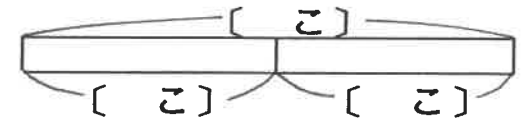
【れい3】 きノウ 14こ あった まんじゅうが、きョウは 6こに なっていました。なんこ へりましたか。



(しき)

こたえ ()

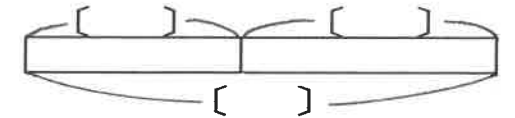
【1】 りんごが 18こ ありました。なんこか たべたので、のこりが 9こに なりました。なんこ たべましたか。



(しき)

こたえ ()

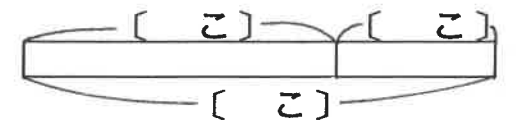
【2】 ある かずに 8を くわえると、こたえが 13に なりました。ある かずは、いくつですか。



(しき)

こたえ ()

【3】 きノウ あさがおの 花が 7こ さいていました。けさは、11こ さいていました。なんこ ふえましたか。



(しき)

こたえ ()

【1】 すずめが 9わ いました。なんわか とんできたので 16わに になりました。とんできたのは なんわですか。

(しき)

こたえ ()

【2】 えんぴつを かってきました。おとうとに 4本 あげたので、のこりが 8本に になりました。はじめに なん本 かってきましたか。

(しき)

こたえ ()

【3】 バスに おきゃくが 19人 のっています。つぎのバスでい で たくさん おりたので、5人に になりました。なん人 おりましたか。(のった人はいませんでした)

(しき)

こたえ ()

【4】 しゅくだいを いままで に 7ページ やりましたが、まだ 6ページ のこっています。しゅくだいは ぜんぶで なんページ ありましたか。

(しき)

こたえ ()

【5】 のり子さんは、けしゴムを あつめています。きょう、3こ もらったので、ぜんぶで 12こに なったそうです。きのう なんこ もっていましたか。

(しき)

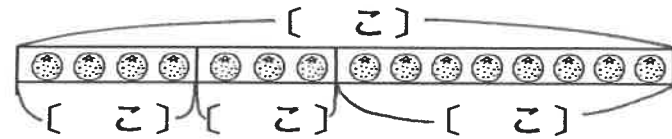
こたえ ()

【6】 8に ある かずを たすと、こたえが 15に なりました。ある かずは、いくつですか。

(しき)

こたえ ()

【れい1】 みかんを もらったので、ぼくが 4こ、おとうとが 3こ たべましたが、まだ 8こ のこっています。はじめに みかんは なんこ ありましたか。



(しき)

こたえ ()

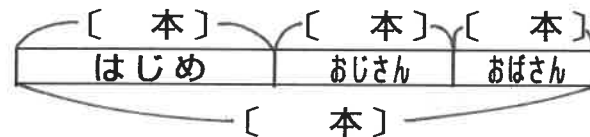
【1】 ノートを たくさん かってきたので、おとうとと いうとに 5さつずつ あげたのですが、まだ、7さつ のこっています。ノートを なんさつ かってきたので しょうか。ずの つづきを かいて、かんがえよう!

--	--	--

(しき)

こたえ ()

【れい2】 えんぴつを 5本 もっていました。おじさんから 4本 と、おばさんから なん本か もらったので、ぜんぶで 12本に なりました。おばさんから もらったのは、 なん本でしたか。



(しき)

こたえ ()

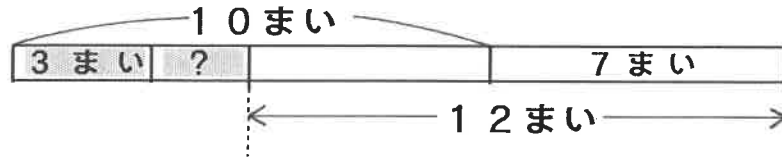
【2】 いろがみが 19まい ありました。わたしが 6まいと、 おとうとが なんまいかと、いもうとが 4まい つかった ので、のこりが 3まいに なりました。おとうとは なん まい つかいましたか。

--

(しき)

こたえ ()

【例1】クッキーが 10まい ありました。ぼくが 3まいと おとうさんが すこし たべたのですが、おかあさんが また 7まい つくったので、クッキーは 12まい になりました。おとうさんは なんまい たべましたか。

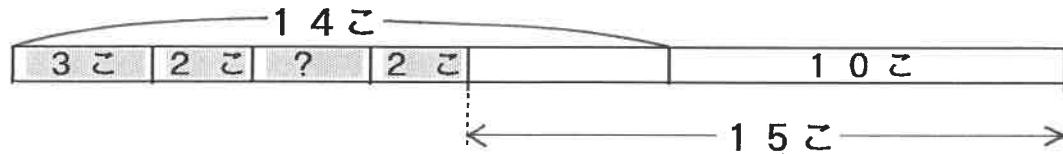


(しき)

こたえ ()

【例2】たまごが 14こ ありました。きのうは、あさ 3こ、 ひる 2こ、よるに なんこか たべました。きょうは、 あさ 2こ たべたのですが、10こ かってきました。 いま、たまごは 15こ あります。きのうの よるに、 なんこ たべましたか。


(ヒント) $14 - 3 - 2 - \square - 2 + 10 = 15$



(しき)

こたえ ()

【1】 がようしが 14まい ありました。5まい つかったの ですが、ともだちから なんまいか もらいました。また、 おかあさんからも 4まい もらったので、のこりが 16 まい になりました。ともだちから もらったのは、なん まいでしたか。ずの つづきを かいて、かんがえよう!



(しき)

こたえ ()


【2】 エレベーターに 人が 8人 のっていました。3人 おりて 4人 のりました。つぎに なん人か おりて、 5人 のりました。いま 12人 のっています。2かい めに おりたのは、なん人だったのでしょうか。 ずの つづきを かいて、かんがえよう!



(しき)

こたえ ()

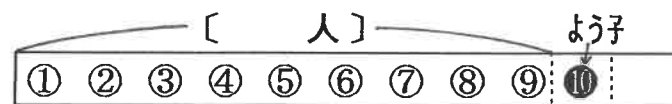
【れい1】 子どもが 1れつに ならんでいます。さとしくんの左に 7人 います。さとしくんは 左から なんばんめですか。



(しき)

こたえ ()

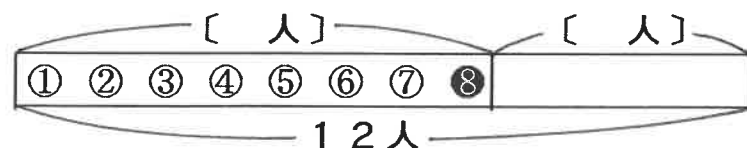
【れい2】 子どもが 1れつに ならんでいます。よう子さんは、まえから 10ばんめです。よう子さんの まえに、なん人 いますか。



(しき)

こたえ ()

【れい3】 12人の 子どもが、1れつに ならんでいます。みち子さんは、まえから 8ばんめです。みち子さんのうしろに、なん人 いますか。



(しき)

こたえ ()

【1】 子どもが 1れつに ならんでいます。かずおくんのまえに 11人 ならんでいます。かずおくんは まえから なんばんめに ならんでいますか。

(しき)

こたえ ()

【2】 車が よこ 1れつに とめてあります。おとうさんの車は、右から 15ばんめです。おとうさんの 車の 右に なんだいの 車が とめてありますか。

(しき)

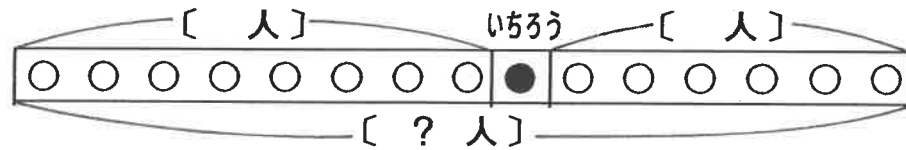
こたえ ()

【3】 17この おはじきが、1れつに ならんでいます。白い おはじきは、左から 9ばんめです。白い おはじきの右に、なんこの おはじきが ならんでいますか。

(しき)

こたえ ()

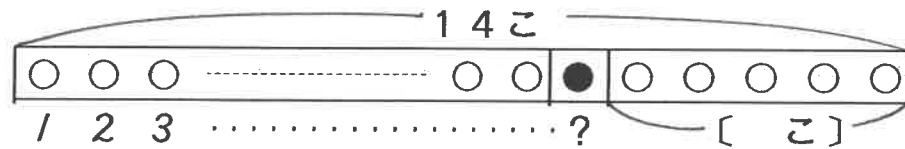
【例1】 子どもが 1れつに ならんでいます。いちろうくんの
 左に 8人、右に 6人 ならんでいます。子どもは ぜん
 ぶで 何人 ならんでいますか。



(しき)

こたえ ()

【例2】 ご石を 1れつに 14こ ならべました。くろい ご石の
 右には、白い ご石が 5こ ならんでいます。くろい ご石は
 左から なんばんめに ならんでいますか。



(しき)

こたえ ()

【1】 本たてに、本が 1れつに ならんでいます。『じごくの
 そうべえ』の 左には 3さつ、右には 8さつの 本が
 あります。本は ぜんぶで なんさつ ならんでいますか。

(しき)

こたえ ()

【2】 16人の せいとが たて1れつに ならびました。
 やすしくんの うしろには、4人が ならんでいます。
 やすしくんは まえから なんばんめですか。

(しき)

こたえ ()

【3】 12ひきの どうぶつが、きょうそうを しました。
 とらより はやかったのは 2ひきでした。とらは、うしろ
 から なんばんめでしたか。

(しき)

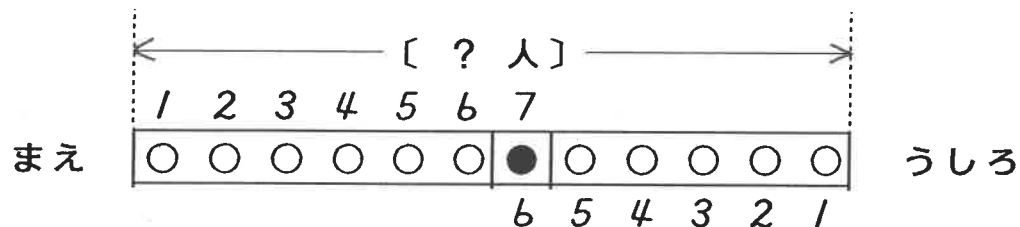
こたえ ()

【4】 マラソンを しました。ほくより はやかった 人は
 5人で、おそかった人は 13人でした。なん人で マラ
 ソンを しましたか。

(しき)

こたえ ()

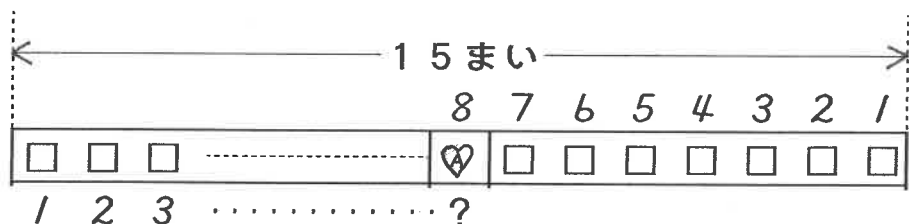
【れい1】 おきゃくが 1れつに ならんでいます。さち子さんは
まえから 7ばんめで、うしろから 6ばんめです。
おきゃくは なん人 ならんでいますか。



(しき)

こたえ ()

【れい2】 15まいの カードを、よこ1れつに ならべました。
『♡A』は、右から 8ばんめです。左から かぞえると
なんばんめに なりますか。



(しき)

こたえ ()

【1】 子どもが 1れつに ならびました。きよくんは、
左から かぞえても、右から かぞえても 6ばんめです。
なん人の 子どもが ならびましたか。

(しき)

こたえ ()

【2】 17さつの 本を つみあげました。『ドラえもん』は
下から 5さつめです。上から かぞえると、なんさつめ
ですか。

(しき)

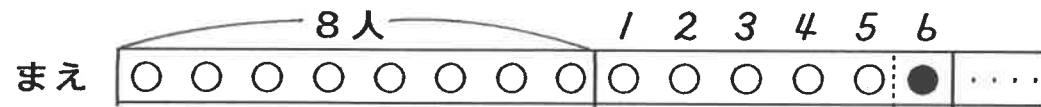
こたえ ()

【3】 きょうそうを しました。ぼくは まえから 3ばんめで、
うしろから 14ばんめでした。なん人で きょうそうを
しましたか。

(しき)

こたえ ()

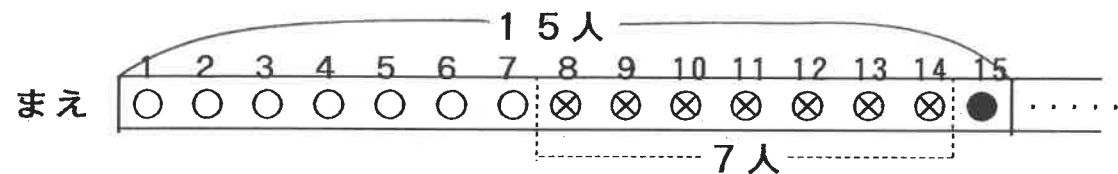
【れい1】 マラソンをしています。Aちてんでは 6ぼんだったのですが、8人にぬかれてしまいました。いまなんぼんですか。(ヒント:1人にぬかれたら、じゅんいはどうなりますか?)



(しき)

こたえ ()

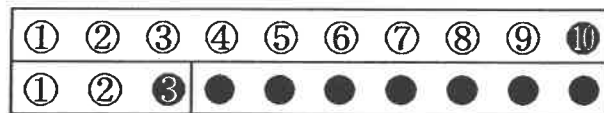
【れい2】 マラソンをしています。Bちてんでは 15ぼんだったのですが、7人ぬきました。なんぼんに なりましたか。



(しき)

こたえ ()

【れい3】 マラソンをしています。Cちてんでは 10ぼんだったのですが、3ぼんに なりました。なん人ぬきましたか。



(しき)

こたえ ()

【1】 100メートルきょうそうを しました。スタートでは 6ぼんでしたが、4人ぬきました。なんぼんに なりましたか。

(しき)

こたえ ()

【2】 ゴルフを しています。きのうは 9ぼんでしたが、きょう 6人にぬかれました。なんぼんに なりましたか。

(しき)

こたえ ()

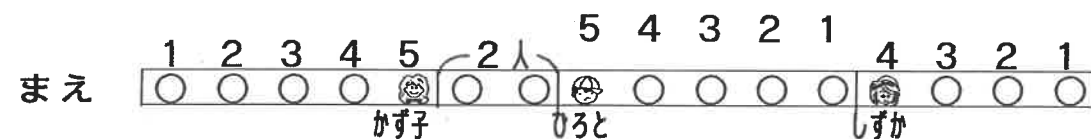
【3】 マラソンを しました。おりかえしの ところでは、5ぼんだったのですが、13ぼんめに ゴールしました。こうはん、なん人にぬかれましたか。

(しき)

こたえ ()

【れい1】 子どもが 1れつに ならんでいます。かずさんは、まえから 5ばんめで、しずかさんは、うしろから 4ばんめです。また、ひろとくと、かずさんの あいだには 2人いて、しずかさんの 5つ まえが ひろとくんです。こどもは ぜんぶで なん人 ならんでいますか。

(かんたんな、えをかいてかんがえます) (ひろとくんはかずさんよりうしろです。)



(しき)

こたえ ()

【れい2】 マラソンをしています。はるおくんは、はじめ 9ばんでしたが、おりかえしちてんまでに、5人ぬいて、3人にぬかれました。そのあと、ゴールまでに、3人ぬいて、けっきょく 6ばんで ゴールインしました。こうはんなん人に ぬかれましたか。

(しき)

こたえ ()

【1】 マラソンをしています。のびたくんは、はじめ 3ばんでしたが、おりかえしちてんまでに、7人に ぬかれて、2人 ぬきました。そのあと、ゴールまでに、ひとりぬいたのですが、なん人かに ぬかれたので、じゅんいは 16ばんになりました。こうはん なん人に ぬかれましたか。

(しき)

こたえ ()

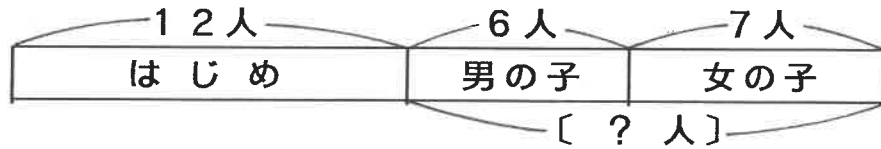
【2】 せいとが 1れつに ならびました。ぼくは 左から 6ばんめで、ぼくの 3つ 右が みのりくんです。また、きょう子さんは、みのりくんの 4つ 右にいて、ぜんたいの 右から 2ばんめに います。せいとは ぜんぶで なん人 ならびましたか。

(ず)

(しき)

こたえ ()

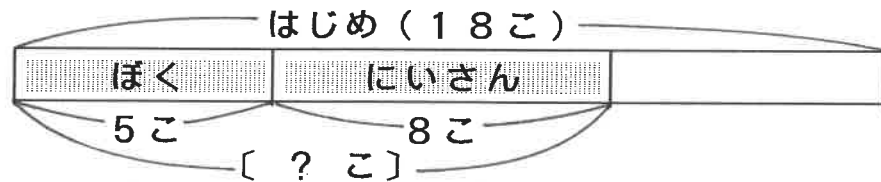
【れい1】 こうえんで 12人の 子どもが あそんでいました。そこへ、男の子が 6人と、女の子が 7人 やってきました。子どもは なん人 ふえましたか。



(しき)

こたえ ()

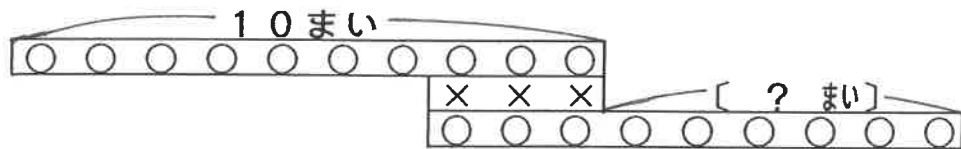
【れい2】 みかんが 18こ ありました。ぼくが 5こと、にいさんが 8こ たべました。みかんは なんこ へりましたか。



(しき)

こたえ ()

【れい3】 シールが 10まい ありました。3まい つかったのですが、9まい もらいました。シールの まいすうは、どうになりましたか。 (なんまいふえましたか、または、なんまいへりましたか。)



(しき)

こたえ ()

【1】 あめを 50こ もらったので、わたしが 7こと、ゆう子さんが 9こ たべました。あめは なんこ へりましたか。

(しき)

こたえ ()

【2】 はとが たくさん いました。右から 4わと、左から 8わ やってきました。はとは なんわ ふえましたか。

(しき)

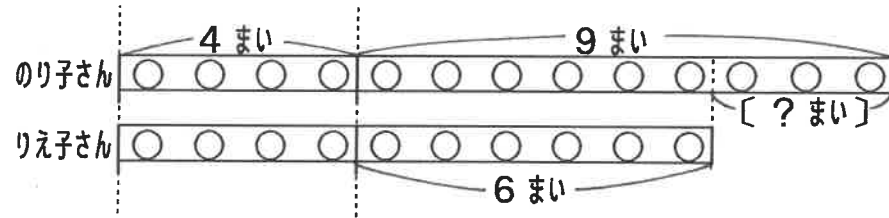
こたえ ()

【3】 きのう たまごが 36こ ありました。きょう 6こ つかったのですが、10こ かってきました。たまごの かずは、きのうと くらべて どうになりましたか。

(しき)

こたえ ()

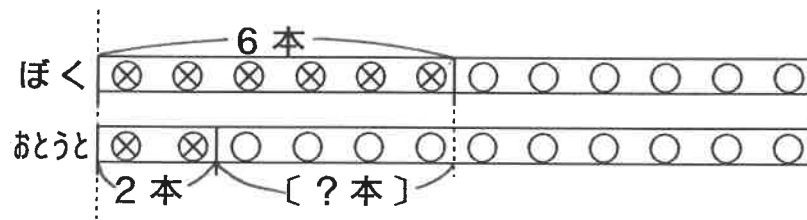
【れい1】 のり子さんと りえ子さんは、がようしを 4まいずつもっていました。きょう、のり子さんは 9まい、りえ子さんは 6まい もらいました。いま、がようしを どちらが なんまい おおく もっていますか。



(しき)

こたえ ()

【れい2】 ぼくと おとうとは、あたらしい えんぴつを 12本ずつ もらいました。ぼくは 6本、おとうとは 2本 つかいました。あたらしい えんぴつを、どちらが なん本 おおく もっていますか。



(しき)

こたえ ()

【1】 かきと なしが、11こずつ ありました。きょう、かきを 12こ、なしを 4こ もらいました。いま、かきと なしでは、どちらが なんこ おおく ありますか。

(しき)

こたえ ()

【2】 はこに、赤と 白の ボールが おなじ かずずつ 入っていました。赤を 9こ、白を 14こ とり出しました。赤と 白の、どちらが なんこ おおく のこっていますか。

(しき)

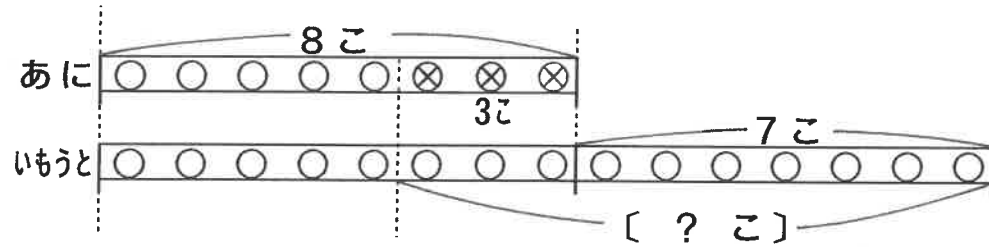
こたえ ()

【3】 とし子さんと たつおくんは、おなじたけ お金も っています。とし子さんは 5円の アメを 2こ、たつおくんは 18円の せんべいを 1まい かいました。のこりの お金は、どちらが なん円 すくない ですか。

(しき)

こたえ ()

【例3】 あにと いもうとは、けしゴムを 8こずつ もって いました。きょう、あには 3こ なくしました。また、 いもうとは 7こ もらいました。けしゴムの かずは、 どちらが なんこ おおく になりましたか。



(しき)

こたえ ()

【1】 赤と白の花が、15こずつ さきました。つぎの日、 赤が 3こ と、白が 6こ さきました。白は 赤より なんこ おおく さいていますか。

(しき)

こたえ ()

【2】 ぼくと おとうとが つみきを 8こずつ つみあげま した。ぼくは 4こ とったのですが、おとうとは あと 8こ つみあげました。いま、どちらが なんこ おおく つみあげていますか。

(しき)

こたえ ()

【練習】 うしと うまが、おなじ かずずつ いました。うしを 8とう つれ出し、うまを 6とう つれてきました。 うしと うまの、どちらが なんとう おおく いますか。

(しき)

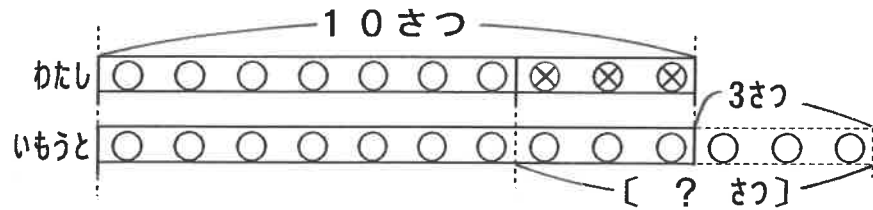
こたえ ()

【3】 みかんと バナナは おなじ ねだんでしたが、みかんは 6円びき、バナナは 15円びきに になりました。どちらが なん円 やすいですか。

(しき)

こたえ ()

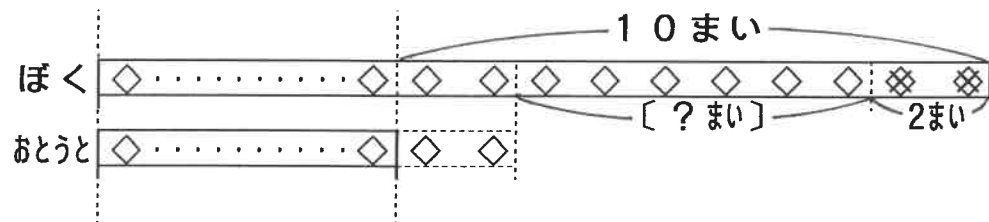
【れい1】 わたしと いうとは、ノートを 10さつずつ もって いましたが、わたしが いうとに 3さつ あげました。 ノートの かずは、いうとが わたしより なんさつ おおく になりましたか。



(しき)

こたえ ()

【れい2】 ぼくは、おとうとより シールを 10まい おおく もっていましたが、おとうとに 2まい あげました。 いま、ぼくは おとうとより、カードを なんまい おおく もっていますか。



(しき)

こたえ ()

【1】 くりひろいに 行きました。えつ子さんと きよしくんは どちらも 40こずつ ひろいしましたが、きよしくんが えつ子さんに 7こ あげました。くりの かずは、えつ子さんのほうが なんこ おおく になりましたか。

(しき)

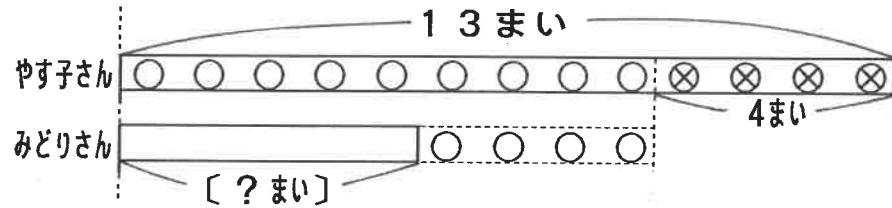
こたえ ()

【2】 2だいの バスで えんそくに 行きました。1ごう車は 2ごう車より 13人 おおかったので、1ごう車の せいとを 5人、2ごう車に うつしました。せいととは どちらの バスが なん人 おおく になりましたか。

(しき)

こたえ ()

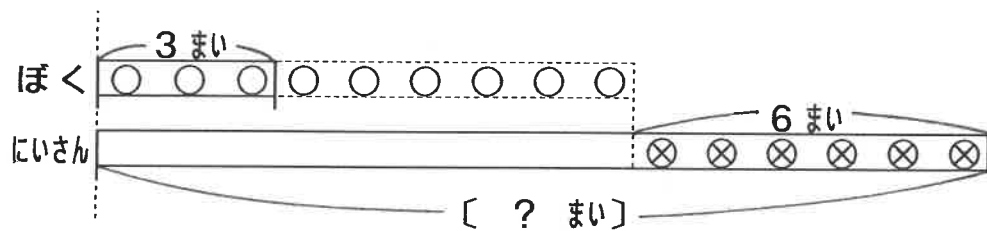
【れい1】 やす子さんは、いろがみを 13まい もっています。
もし、やす子さんが みどりさんに、4まい あげたら、
2人の いろがみの まいすうが おなじになるそうです。
みどりさんは いろがみを なんまい もっていますか。



(しき)

こたえ ()

【れい2】 ガムを かいに いきました。ぼくは 3まいしか かえ
なかつたので、にいさんから 6まい もらったところ、
2人の ガムの まいすうが おなじになりました。
にいさんは、はじめ なんまいの ガムを もっていま
したか。



(しき)

こたえ ()

【1】 ぼくは シールを 18まい もっていましたが、けんじ
くんに 3まい あげました。すると、ぼくと けんじくんの
シールの まいすうが、おなじになりました。はじめに、
けんじくんは、シールを なんまい もっていましたか。

(しき)

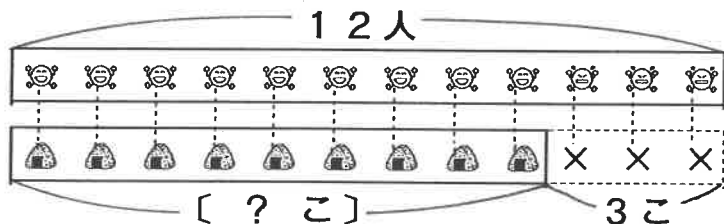
こたえ ()

【2】 しおひがりに いきました。いもうとは かいを 5こ
しか とれなかつたので、わたしが 7こ あげました。
このとき、2人の かいの かずが おなじになつた
そうです。わたしが はじめに とった かいは、なんこ
でしたか。

(しき)

こたえ ()

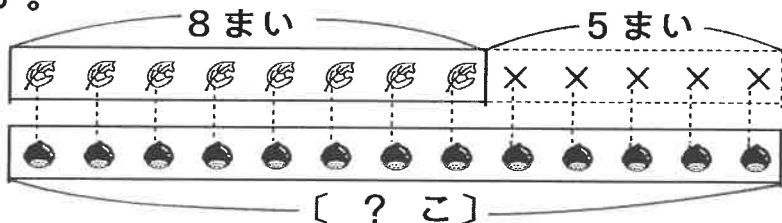
【れい1】 12人の子どもに、おにぎりをひとり1こずつあげていくと、おにぎりが3こたりなくなりました。おにぎりはなんこありましたか。



(しき)

こたえ ()

【れい2】 8まいのはっぱに、くりを1こずつのせていくと、はっぱが5まいたりなくなりました。くりはなんこありましたか。



(しき)

こたえ ()

【1】 7人のせいとに、パンをひとり1こずつあげていくと、パンが6こあまりました。パンはなんこありましたか。

(しき)

こたえ ()

【2】 18人の子どもたちに、がようしをひとり1まいずつくぼっていくと、3人がもらえなくなりました。がようしは、はじめなんまいありましたか。

(しき)

こたえ ()

【3】 16人のともだちに、ビスケットをひとり1まいずつあげていくと、ビスケットが1まいたりなくなりました。ビスケットは、なんまいありましたか。

(しき)


こたえ ()

【4】 メロンをおきやくさんに、1人1きれずつあげます。7人のおきやくさんにあげたのですが、まだ7人ぶんのこっています。メロンをなんきれよういしましたか。

(しき)

こたえ ()

【例1】りんごが4こずつはいったはこが、4はこあります。りんごはぜんぶでなんこありますか。




[? こ]

(しき)

こたえ ()

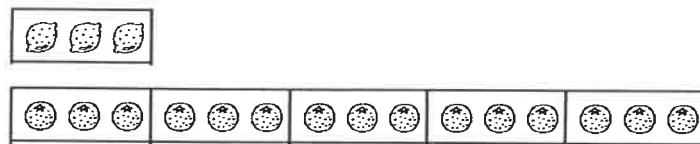
【例2】いちごを1人2こずつ6人の子どもにあげます。いちごはぜんぶでなんこいらいますか。



(しき)

こたえ ()

【例3】レモンが3こあります。みかんはレモンの5ばいあります。みかんはなんこありますか。



(しき)

こたえ ()

【1】はんダース入りのえんぴつが、3はこあります。えんぴつはぜんぶでなん本ありますか。
(はんダース = 6本です)

(しき)

こたえ ()

【2】ノートを1人3さつずつ、4人のともだちにあげました。ぜんぶでなんさつあげましたか。

(しき)

こたえ ()

【3】ガムは1まい5円です。チョコレート1こは、ガムの3ばいのねだんです。チョコレート1こはなん円ですか。

(しき)

こたえ ()

【例1】 白い ご石が 4こ、1れつに ならんでいます。
 白い ご石と、白い ご石の あいだに、くろい ご石を 2こ
 ずつ ならべます。くろい ご石は なんこ いらいますか。



(しき)

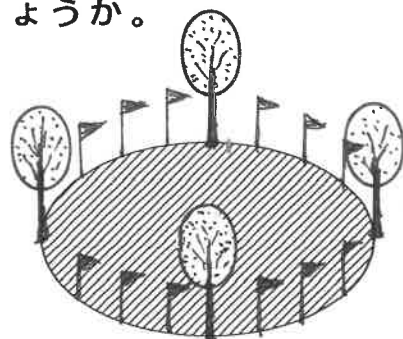
こたえ ()

【1】 3人の 先生が 1れつに ならんでいます。そして、
 先生と 先生の あいだには、せいとが 7人ずつ ならんで
 います。せいとは ぜんぶで なん人 ならんでいますか。

(しき)

こたえ ()

【例2】 いけの まわりに、木が 4本 立っています。この
 木と 木の あいだに、はたを 3本ずつ たてます。はたを
 なん本 よういすれば よいでしょうか。



(しき)


こたえ ()

【2】 いけの まわりに、5本の 木を うえます。また、木と
 木の あいだには、3本ずつ くいを うちます。くいは
 なん本 いらいますか。

(しき)

こたえ ()

【例3】 2本の でんちゅうの あいだに、4本の 木が 立っ
 ています。下の ずの ように、それぞれの あいだに、いすを
 2こずつ おきます。いすは いくつ いらいますか。



(しき)

こたえ ()

【3】 2本の 木の あいだに、はたが 3本 たっています。
 この 木や はたの あいだに、子どもが 3人ずつ なら
 んでいます。なん人の 子どもが ならんでいますか。

(しき)

こたえ ()

【れい1】 12このボールを、3こずつはこに います。はこは いくつ いますか。□で かこって かんがえ しょう。



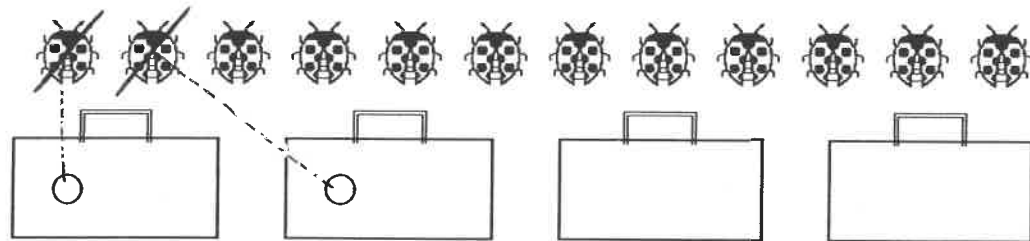
こたえ ()

【1】 8このメロンを、2こずつはこに います。はこは いくつ いますか。




こたえ ()

【れい2】 12ひきのテントウムシを、4人で おなじように わけます。1人 なんびきずつに になりますか。じゅんにかごに うつして かんがえ しょう。



こたえ ()

【2】 15ひきのウサギを、3つのかごに おなじように 入れます。なんびきずつに になりますか。



こたえ ()

【れい3】 10このみかんを、5このふくろに おなじかず ずつ 入れます。そして、ぼくは 4ふくろ、おとうとは 1ふくろ もらいます。2人は それぞれ なんこ もらいますか。



ぼく

おとうと

こたえ (ぼく..... こ, おとうと..... こ)

【3】 12このりんごを、4このはこに おなじかず ずつ 入れて、わたしが 3はこ、おとうとが 1はこ もらいます。2人は それぞれ なんこ もらえますか。



わたし

おとうと

こたえ (わたし..... こ, おとうと..... こ)

【れい1】 8このボールを、ぼくとおとうとの2人でわけます。ぼくはおとうとより2こおおくもらいます。2人はそれぞれなんこもらいますか。
(えをかいてかんがえましょう！)



ぼく

おとうと

こたえ (ぼく ----- こ , おとうと ----- こ)

【1】 11このあめを、すすむくんとこうじくんの2人でわけました。こうじくんはすすむくんより1こおおくもらいました。2人はそれぞれなんこもらいますか。



こうじくん

すすむくん

こたえ (すずむくん ----- こ , こうじくん ----- こ)

【れい2】 10このはねを、わたしといもうとの2人でわけました。わたしはいもうとの2まいよりも1こおおくもらいました。2人はそれぞれなんまいもらいましたか。



わたし

いもうと

こたえ (わたし ----- こ , いもうと ----- こ)

【2】 14まいのいろがみを、わたしといもうとの2人でわけました。わたしはいもうとの2まいよりも2まいおおくもらいました。2人はそれぞれなんまいもらいましたか。



わたし

いもうと

こたえ (わたし ----- まい , いもうと ----- まい)